



INSTITUCIÓN EDUCATIVA “EL RECUERDO”
 Resolución de Aprobación de Carácter Oficial No. 0143 de 2017 en
 los niveles de Preescolar, Básica y Media Académica DANE.
 123001800064 NIT. 901048820-9

GUIA 4

16 junio a 3 de julio de 2020


Guía de trabajo del área : Artes - matemáticas		Grado: segundo
Nombre del docente	email	Celular
Argenida Navarro	3015152650	anavarroieelrecuerdo@gmail.com
Melys Vargas	3213268142	mvargasieelrecuerdo@gmail.com
Liliana Vargas	3013720060	lvargasieelrecuerdo@gmail.com
Yenis Díaz	3116562432	ydiazieelrecuerdo@gmail.com
TEMAS Y/O SABER		DBA (APRENDIZAJES)
SIMETRÍA		Comprende el concepto de simetría y completa una figura simétrica a partir de una sección.

ASESORIA: si tiene alguna duda o no entiende algo sobre esta guía, comuníquese con el número que aparece en la parte de arriba.

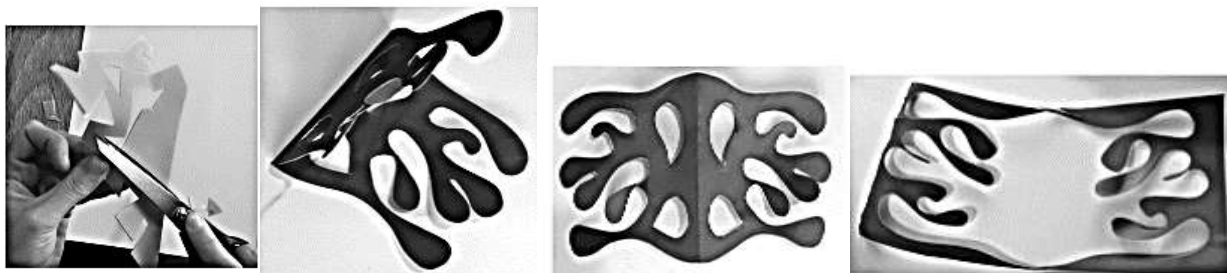


SIMETRÍA

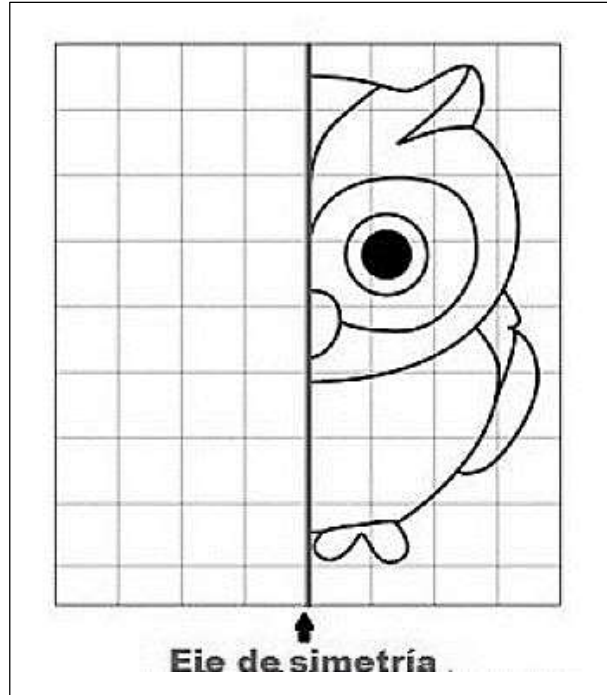
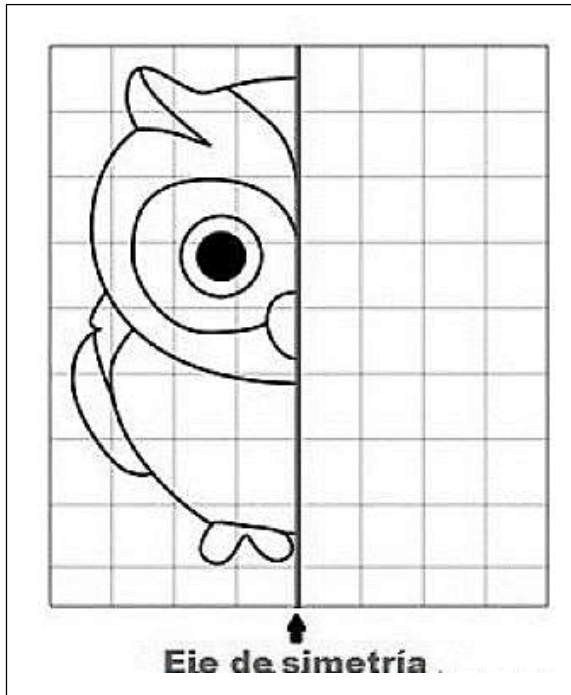
La simetría consiste en que una imagen o figura se ve idéntica a su forma original después de ser volteada o girada. Por lo tanto, la simetría transforma una figura en otra igual, aunque en sentido inverso.



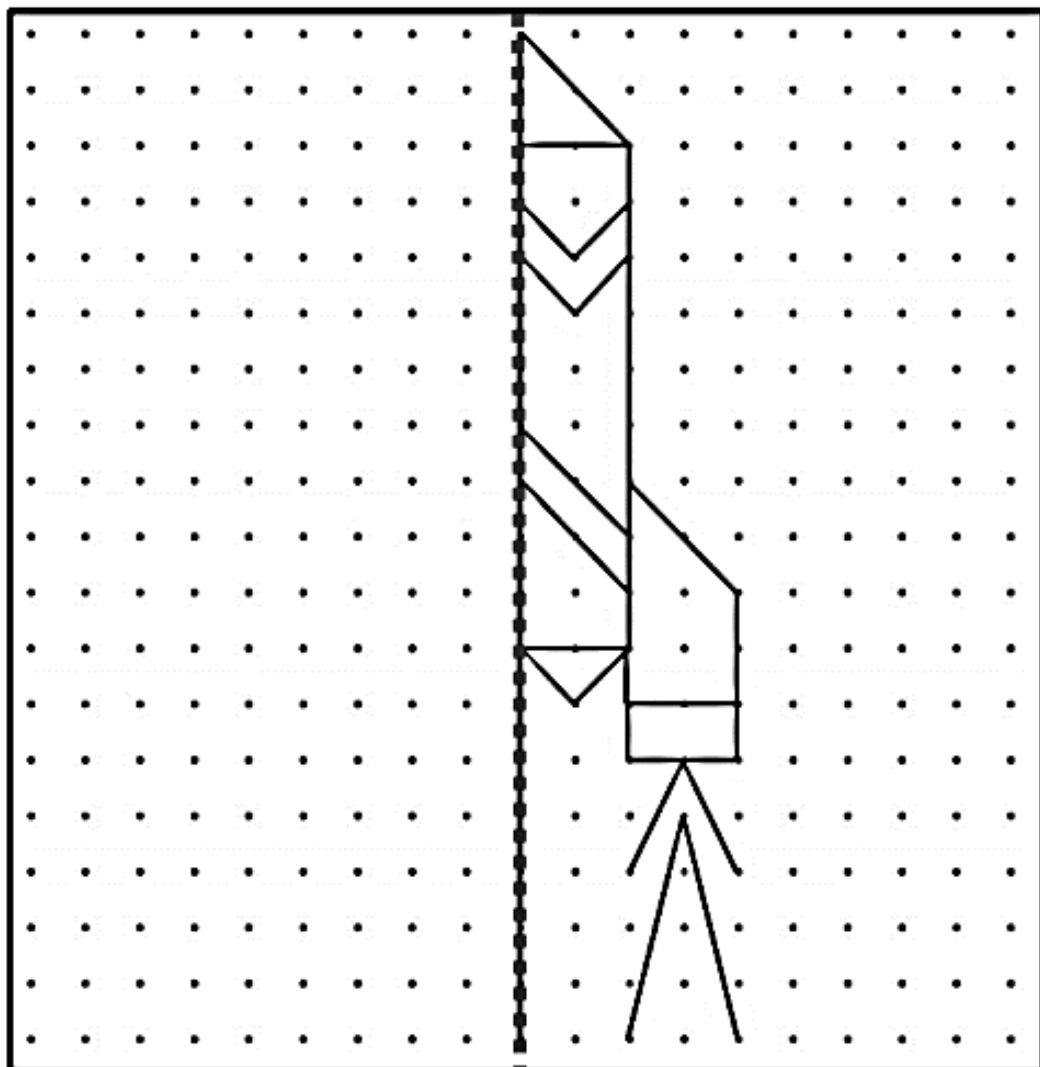
Ejercicio 1: Dobra una cartulina por la mitad y realiza cortes en el doblado. Abre la hoja y observa el resultado. La figura que ves es simétrica porque al lado derecho y al izquierdo tiene formas iguales reflejadas.



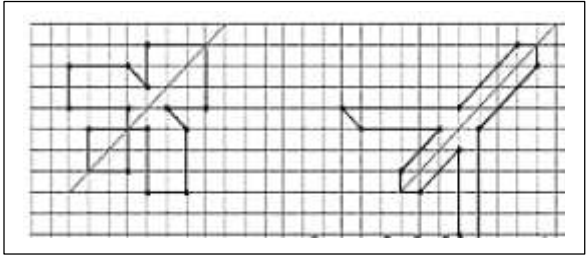
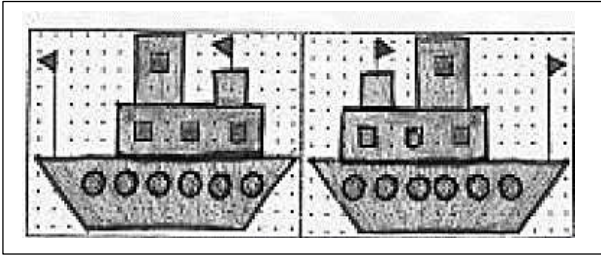
Ejercicio 2: Completa las imágenes de forma simétrica



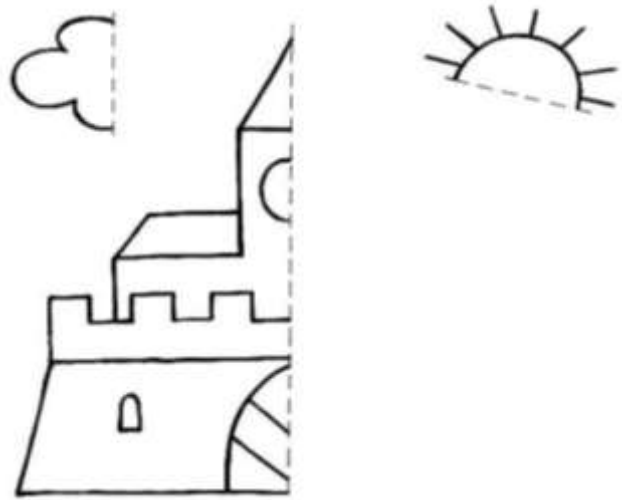
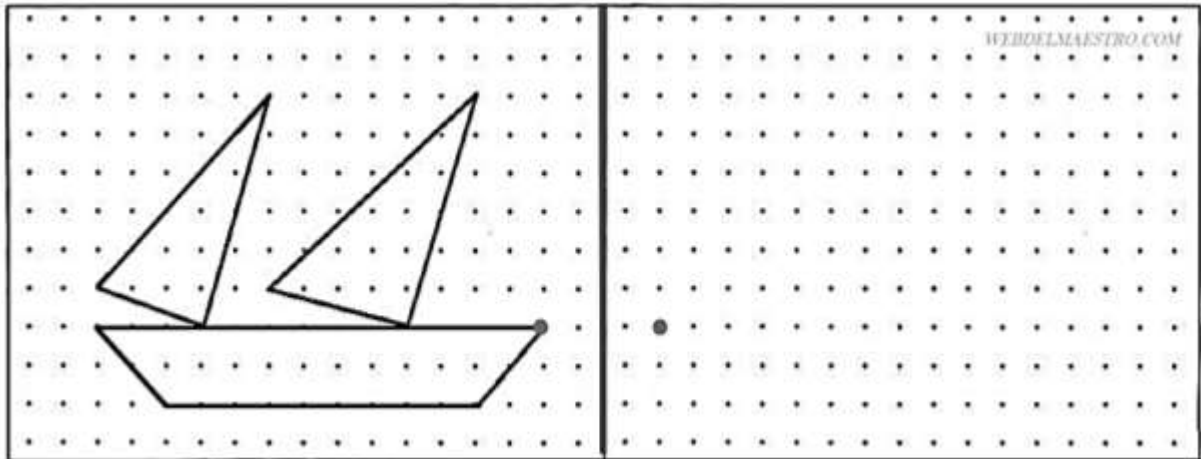
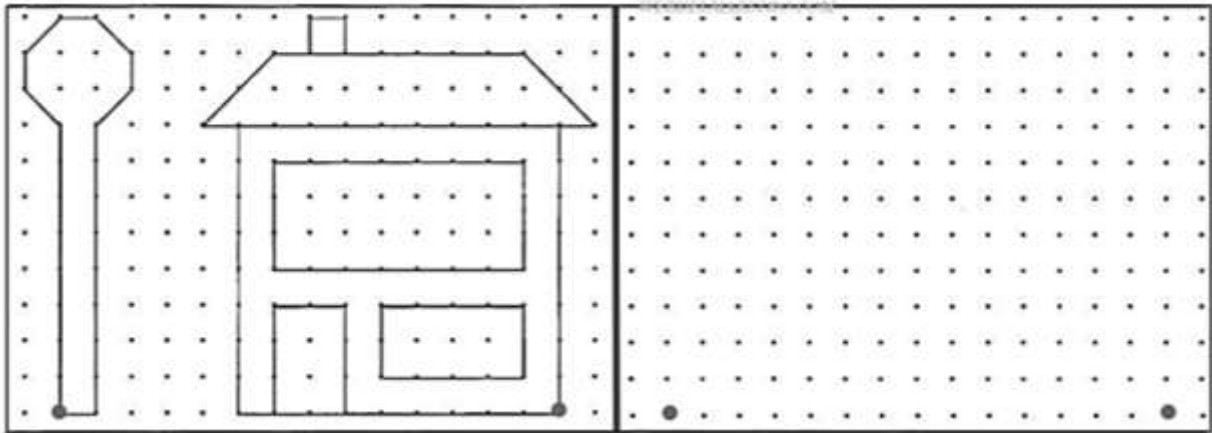
EJERCICIO 3: Completa las simetrías en los siguientes formatos:



También podemos ver la simetría en dibujos completos o diagonales



EJERCICIO 4: Completa las simetrías en los siguientes formatos:



EJERCICIO 5: Completa los rostros de forma simétrica:



EJERCICIO 6: Completa de forma simétrica y escribe el nombre de la figura:

